

<b>Cycle 3</b> <b>Adapté</b>	<b>Ce que je dois retenir ...</b>	<b>Fiche de connaissance :</b>		
		<b>Niv</b>	<b>Code</b>	<b>Validé :</b>
Nommer la fonction d'usage d'un objet technique Associer la solution technique liée à une fonction		1	A1	oui <input type="checkbox"/> non <input type="checkbox"/>
		1	A3	oui <input type="checkbox"/> non <input type="checkbox"/>



## Nommer la fonction d'usage d'un objet technique :







A1

**Mots clés**

**Objet technique :** C'est un **objet naturel transformé** par l'Homme.

**Fonction d'usage :** C'est la réponse à la question "**A quoi sert l'objet ?**"

Remarque : La fonction d'usage est la même quelque soit l'utilisateur, ses désirs, ses goûts.

Objet naturel	Objet technique	Fonction d'usage
 Arbre	 Table (en bois)	<b>Poser</b> des objets dessus
 Sable	 Verre	<b>Contenir</b> un liquide
 Laine de mouton	 Pelote (de laine)	<u>Tricoter</u> des vêtements

**Fonction = Verbe infinitif + Complément**

## Associer une solution technique à sa fonction :

A3

**Solution technique :** C'est un groupe de pièces répondant à une fonction technique ou d'estime.

### Analyse fonctionnelle d'une montgolfière,

