













Fiche d'activité :	Ce que je dois faire ...	6^{ème}
CI-4 :	L'utilisation des TIC : L'ordinateur et ses périphériques.	
Compétences :	- Reconnaître et nommer les composants d'un ordinateur	

ACTIVITE N°1 : Inscris le nom de chaque périphérique de l'ordinateur sur le dessin ci-dessous :

Q1 – Ecrire le nom de chaque périphérique de l'ordinateur sur le dessin ci-dessous :



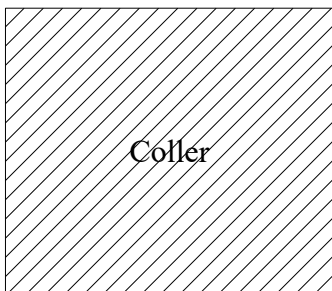
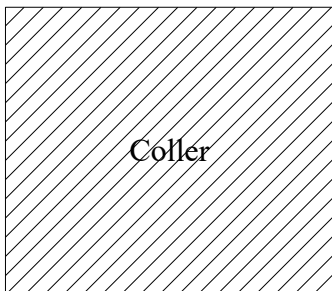
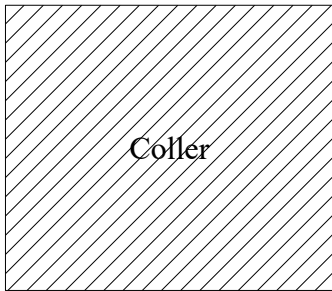
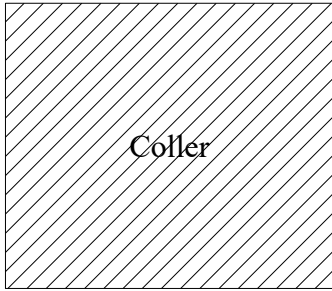


Découper ici

 Clavier	 Modem	 Vidéoprojecteur	 Micro casque
 Lecteur CD	 Télécommande	 Imprimante laser	 Imprimante 3D
 Souris	 Scanner	 Supports de stockage	 Enceinte
 Manette	 Webcam	 Appareil photo	 Ecran



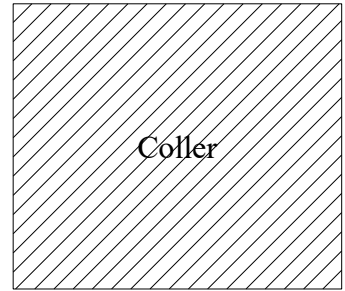
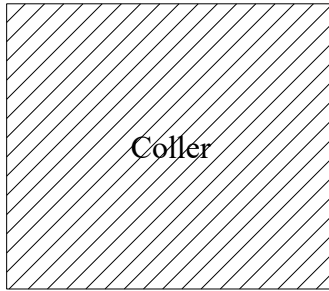
Les périphériques d'entrée - sortie

Les périphériques d'entrée-sortie qui opèrent dans les deux sens



Les périphériques de sortie

Les périphériques de sortie servent à faire sortir des informations du système informatique



Les périphériques d'entrée

Les périphériques d'entrée servent à fournir des informations (ou données) au système informatique

